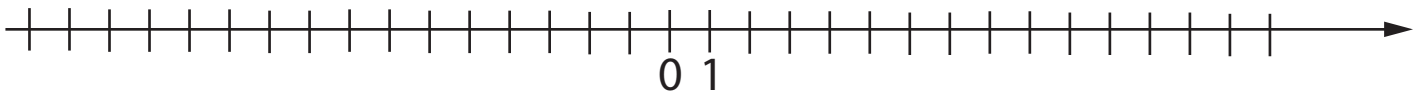
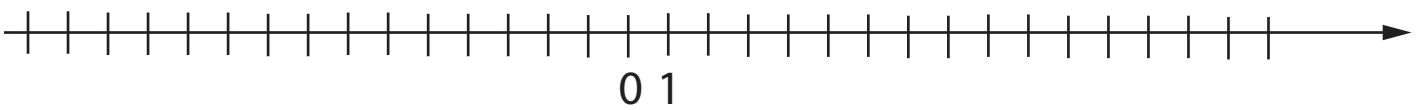


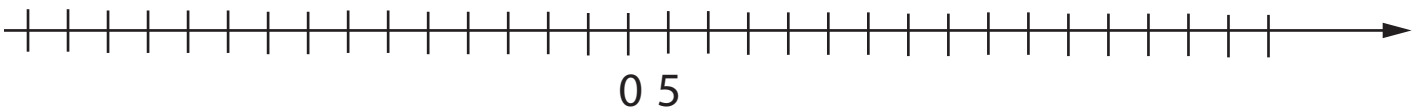
Zaznacz na osi liczbowej liczby 3, 10, -2, -5, -15



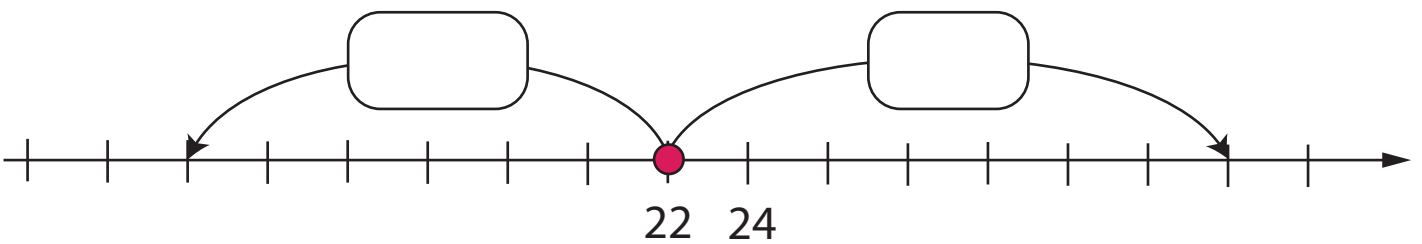
Zaznacz na osi liczbowej liczby 5 oraz o 5 większą 10 mniejszą



Zaznacz na osi liczby 10 i 15 oraz liczby o 20 większe i mniejsze



O ile różnią się te liczby?



O ile różnią się te liczby?

