


Na półce widać ceny towarów. Ile należy wydać za zakupy klientowi, który dał sprzedawcy banknot 20 zł? Zapisz odpowiednie działanie.




8 zł




4 zł



7 zł



6 zł



5 zł



3 zł



$$20\text{zł} - 8\text{zł} - 4\text{zł} - 7\text{zł} = 1\text{zł}$$









