








Czarnych kółek jest 8. Figur  jest o 3 więcej, zaś figur  jest o 9 mniej od . Figur   jest po 7, a   jest w sumie 12, z czego liczba obu figur jest taka sama.

Policz ile jest każdej z figur i zaznacz odpowiednią liczbę kratek na diagramie.

