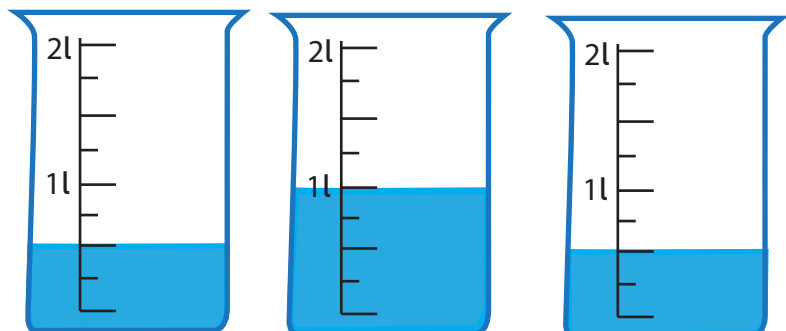
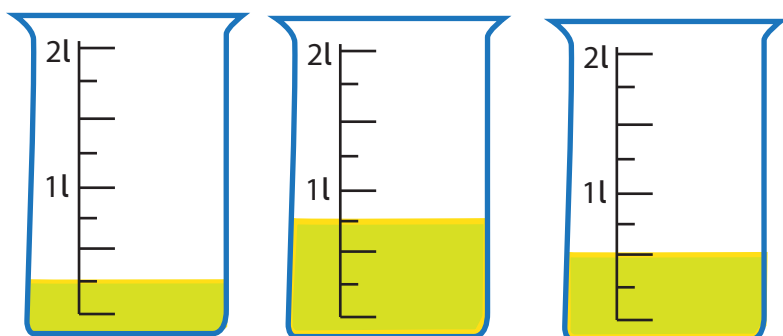


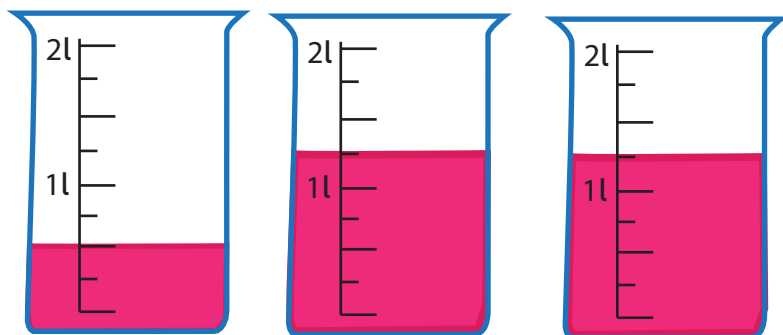
Ile litrów znajduje się w pojemnikach? Zaznacz właściwe odpowiedzi poprzez podkreślenie.



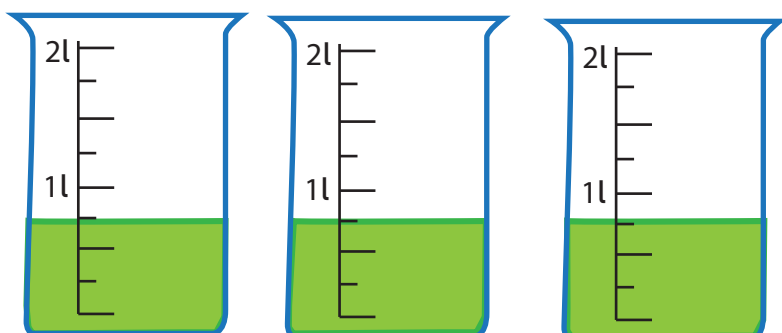
- a) 1 litr i pół
- b) 2 litry
- c) 2 litry i pół
- d) 2 litry i trzy ćwierci



- a) 1 litr i pół
- b) 1 litr i ćwierć
- c) 2 litry i pół
- d) 2 litry



- a) 2 litry i pół
- b) 2 litry i trzy ćwierci
- c) 3 litry
- d) 3 litry i ćwierć



- a) 1 litr i trzy ćwierci
- b) 2 litry i ćwierć
- c) 2 litry i pół
- d) 2 litry i trzy ćwierci