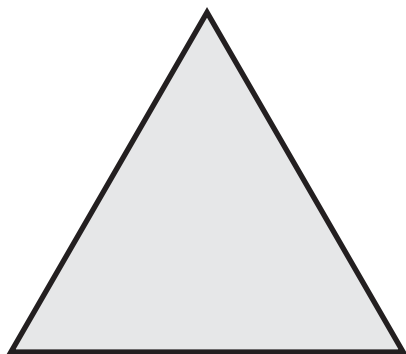



Co łączy wszystkie narysowane figury? Policz w myśli przekątne każdej figury, a potem je narysuj. Uzupełnij puste pola pod każdą figurą.



Liczba boków:

Liczba kątów:

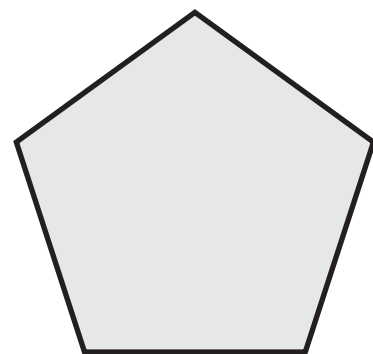
Liczba przekatnych:



Liczba boków:

Liczba kątów:

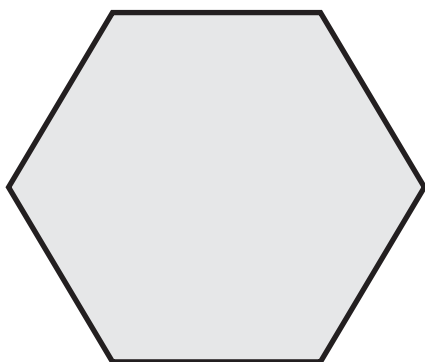
Liczba przekatnych:



Liczba boków:

Liczba kątów:

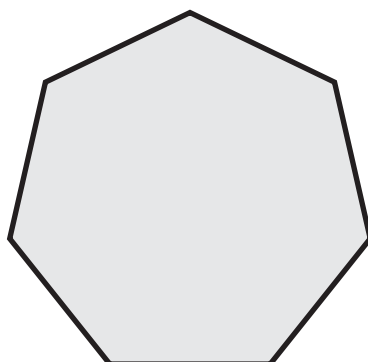
Liczba przekatnych:



Liczba boków:

Liczba kątów:

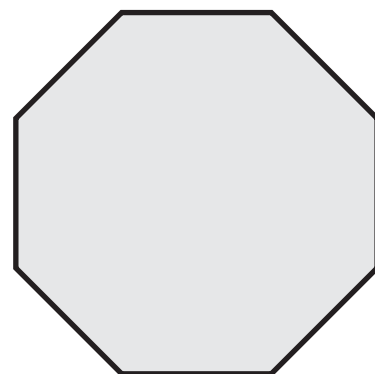
Liczba przekatnych:



Liczba boków:

Liczba kątów:

Liczba przekatnych:



Liczba boków:

Liczba kątów:

Liczba przekatnych: